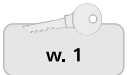


Spis treści

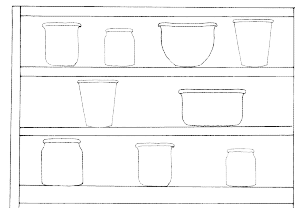
| | |
|--|----|
| 1. Dodawanie i odejmowanie w zakresie 10..... | 3 |
| 2. Dodawanie i odejmowanie w zakresie 20..... | 13 |
| 3. Dodawanie i odejmowanie w zakresie 50..... | 23 |
| 4. Dodawanie i odejmowanie w zakresie 100..... | 33 |
| 5. Mnożenie i dzielenie w zakresie 10 | 43 |
| 6. Mnożenie i dzielenie w zakresie 20 | 53 |
| 7. Mnożenie i dzielenie w zakresie 50 | 73 |
| 8. Mnożenie i dzielenie w zakresie 100 | 83 |

Symbol  umieszczony obok polecenia oznacza, że na końcu publikacji znajduje się dodatkowa wskazówka dla nauczyciela.

Symbol  informuje o zgodzie wydawnictwa na kopiowanie.

1 Obejrzyj ilustrację, przeczytaj i rozwiąż zadanie.

Mama ustawiła na półkach pojemniki na produkty spożywcze. Jeśli ciocia Zosia pożyczy od mamy trzy pojemniki, to ile pojemników zostanie na półkach?




| | | | | | | | | | | | | | | | | | | | |
|--|--|--|--|--|--|--|--|--|--|--|--|--|--|--|--|--|--|--|--|
| | | | | | | | | | | | | | | | | | | | |
| | | | | | | | | | | | | | | | | | | | |

Odpowiedź: _____

2 Obejrzyj ilustrację, przeczytaj i rozwiąż zadanie.

Tata kupił 9 kwiatów. Mama część kwiatów wstawiła do wazonu, a część oddała babci. Sprawdź, ile kwiatów mama wstawiła do wazonu. Następnie oblicz, ile kwiatów mama oddała babci.




| | | | | | | | | | | | | | | | | | | | |
|--|--|--|--|--|--|--|--|--|--|--|--|--|--|--|--|--|--|--|--|
| | | | | | | | | | | | | | | | | | | | |
| | | | | | | | | | | | | | | | | | | | |

Odpowiedź: _____

3 Obejrzyj ilustrację, przeczytaj i rozwiąż zadanie.


Na uroczystości rodzinnej było 10 osób. Policz, ile osób znajduje się na zdjęciu. Oblicz, ilu osób brakuje na zdjęciu.



| | | | | | | | | | | | | | | | | | | | |
|--|--|--|--|--|--|--|--|--|--|--|--|--|--|--|--|--|--|--|--|
| | | | | | | | | | | | | | | | | | | | |
| | | | | | | | | | | | | | | | | | | | |

Odpowiedź: _____

1 Połącz ufoludka z odpowiednimi działaniami.



$$5 + 4$$

$$9 - 6$$

$$10 - 1$$

$$8 + 1$$

$$4 + 3$$

$$7 + 2$$

$$7 + 0$$

$$9 - 0$$

2 Przeczytaj i rozwiąż zadanie.

Klasową gazetkę dekorowało 5 dziewczynek i 4 chłopców. Do sprzątnięcia sali po dekorowaniu zostało 7 osób. Ile osób poszło do domu?

Rozwiązanie:

| | | | | | | | | | | | | | | | | | | | | | | | | |
|--|--|--|--|--|--|--|--|--|--|--|--|--|--|--|--|--|--|--|--|--|--|--|--|--|
| | | | | | | | | | | | | | | | | | | | | | | | | |
|--|--|--|--|--|--|--|--|--|--|--|--|--|--|--|--|--|--|--|--|--|--|--|--|--|

Odpowiedź:

3 Wykonaj obliczenia i pokoloruj okienka zgodnie z instrukcją nauczyciela.

w. 1
s. 113

| | | | | | | |
|----------|---------|---------|----------|---------|---------|----------|
| $7 + 1$ | $6 - 2$ | $8 - 2$ | $2 + 7$ | $7 - 3$ | $3 + 2$ | $10 - 4$ |
| $0 + 2$ | $3 + 4$ | $6 + 4$ | $10 - 1$ | $8 - 2$ | $1 + 3$ | $9 - 6$ |
| $10 - 2$ | $7 - 4$ | $7 - 5$ | $4 + 5$ | $3 + 3$ | $7 + 3$ | $1 + 0$ |
| $2 + 4$ | $9 - 2$ | $4 + 4$ | $10 - 7$ | $1 + 5$ | $0 + 2$ | $5 + 3$ |
| $8 - 4$ | $9 - 3$ | $3 + 1$ | $9 - 0$ | $7 - 1$ | $6 - 3$ | $3 + 6$ |
| | | | | | | $8 - 6$ |

